	Escola FB Kids	() aula
	Aluno (a):	() casa
	1º ano	Data:
	Matéria: Matemática	Professora:
		Folha:10

Dúzia e meia dúzia!

@Atividades Suzano

Roberto comprou 1 dúzia de ovos. Conte os ovos e complete:



1 dúzia= _____ ovos

Ele separou meia dúzia para fazer um bolo.




Conte os ovos que ele separou e complete:

meia dúzia= _____ ovos


12 unidades formam 1 dúzia

6 unidades formam meia dúzia

Pinte 1 dúzia de círculos e meia dúzia de triângulos



Risque meia dúzia de ovos e indique a operação matemática que você fez:

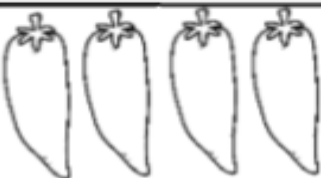


Gabriela foi à feira e comprou meia dúzia de laranjas. Como estavam muito suculentas, resolveu comprar outras 6. Quantas laranjas ela comprou?

Fernando tem 1 dúzia de balas e Carla, meia dúzia de bombons. Quantos doces eles têm juntos?

Complete desenhando até formar.

UMA DÚZIA:



MEIA DÚZIA:

